

宽柔中学古来分校
2016 年度上半年初一科学年中考
答卷

名字: _____ () 学号: _____ 成绩: _____
 班级: 初一 () 19-05-2016 家长签名: _____

(A) 选择题(30 题 X 1% = 30%):

- | | | |
|-------------------------|-------------------------|-------------------------|
| 1 (A) (B) (C) (D) | 11 (A) (B) (C) (D) | 21 (A) (B) (C) (D) |
| 2 (A) (B) (C) (D) | 12 (A) (B) (C) (D) | 22 (A) (B) (C) (D) |
| 3 (A) (B) (C) (D) | 13 (A) (B) (C) (D) | 23 (A) (B) (C) (D) |
| 4 (A) (B) (C) (D) | 14 (A) (B) (C) (D) | 24 (A) (B) (C) (D) |
| 5 (A) (B) (C) (D) | 15 (A) (B) (C) (D) | 25 (A) (B) (C) (D) |
| 6 (A) (B) (C) (D) | 16 (A) (B) (C) (D) | 26 (A) (B) (C) (D) |
| 7 (A) (B) (C) (D) | 17 (A) (B) (C) (D) | 27 (A) (B) (C) (D) |
| 8 (A) (B) (C) (D) | 18 (A) (B) (C) (D) | 28 (A) (B) (C) (D) |
| 9 (A) (B) (C) (D) | 19 (A) (B) (C) (D) | 29 (A) (B) (C) (D) |
| 10 (A) (B) (C) (D) | 20 (A) (B) (C) (D) | 30 (A) (B) (C) (D) |

(B) 填充题 (20 题 x 2%= 40%) :

a.	b.	c.	d.	e.
f.	g.	h.	i.	j.
k.	l.	m.	n.	o.
p.	q.	r.	s.	t.

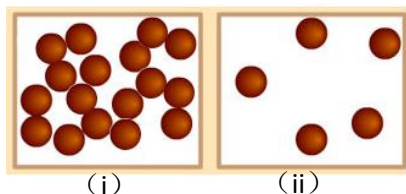
(C) 简答题 (3 题 X10% = 30%) : 任选 3 题回答, 请把不选答的题号打 X 。

1. (a) 写出紫色石蕊试液在以下液体中的颜色变化。(5%)

液体	颜色变化
蒸馏水	紫色 → ()
稀硫酸	紫色 → ()
稀盐酸	紫色 → ()
氢氧化钠溶液	紫色 → ()
氢氧化钙溶液	紫色 → ()

(b) 除了石蕊试液以外, 还可以利用哪些方法来测定物质的酸碱性? 请写出一项。(1%) _____

(c) 以下粒子的排列方法属于哪一种状态? (2%)



(i) _____

(ii) _____

(d) 两条狭长的铜片和贴片和在一起做成双金属片。双金属片会向着铁片弯曲。这是为什么? (2%)

2. 图 1 为地球的示意图。

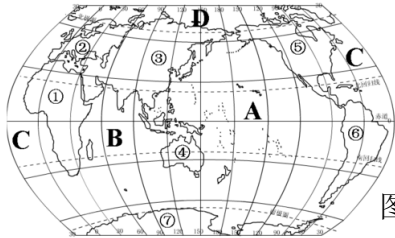


图 1

(a) 请写出图中四大洋的名称。(4%)

A. _____ B. _____
C. _____ D. _____

(b) 地球的 _____ 和 _____ 共同组成了岩石圈。(2%)

(c) 下列图 2 显示各海底地形及其地形特点。请列出正确的海底地形的名称。(4%)

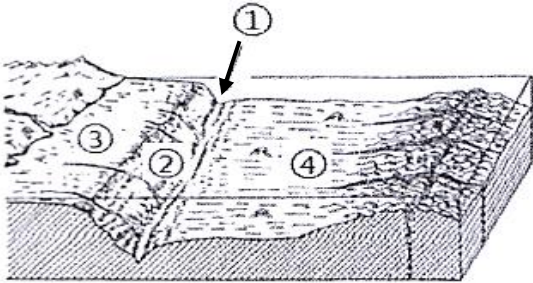


图 2

① _____ ② _____
③ _____ ④ _____

3. 图 3 为三态的转化过程。

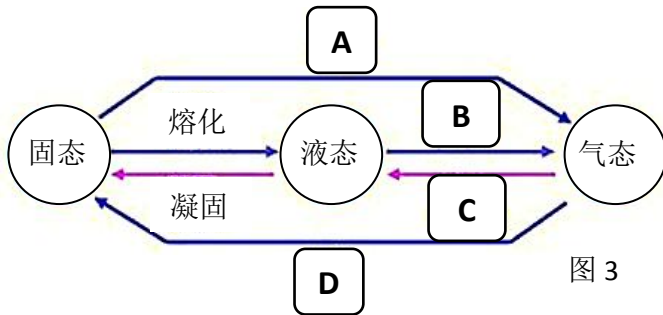


图 3

(a) 请列出这四项代号的过程名称。(4%)

A. _____
B. _____
C. _____
D. _____

(b) 请说明沸腾和蒸发的主要各两个差别。(4%)

(c) 请列出两个影响蒸发的快慢程度的因素。(2%)

4. 图 4 为三大不同类型的岩石。




图 4

(a) 请依照符号来写出岩石的主要三大类型名称。(3%)

A. _____ B. _____ C. _____

(b) 我们如何分辨岩石?(2%)

(c) 请问土壤是如何形成的?(2%)

(d) 请列出其中三种构成土壤的物质。(3%)
